
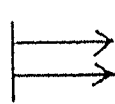

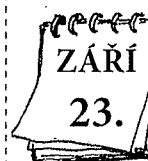



10. Vytvoř myšlenkovou mapu PODZIM. Použij obrázky z okraje a doplň vlastní nápady.



Alence je 7 let. Její sestra Olina je o 9 let starší. **Kolik let je Olině?**

_____	_____
_____	_____
_____	_____
_____	_____
_____	_____
_____	_____
_____	_____

oník je o 8 let mladší než Olina. **Jak starý je Toník?**

_____ let

kolik let je Toník starší než Alenka?

o _____ rok

2. Doplň tabulky:

⊕	3	5	7	4	6	8
6						
8						
7						

